

Приложение № 11

**ПРОТОКОЛ**  
**проверки олимпиадной работы участника**


Предмет История  
 Класс 7  
 Шифр Ист 7-6  
 № тура (если есть) 1

Заполняется проверяющими членами жюри

№ задания		1	2	3	4	5	6	7	8	9	10	И Т О Г О
Максимальное количество баллов		10	3	12	10	10	7	12	16	15	5	100
Баллы членов жюри	Эксперт 1	10	1	6	5	5	2	3	0	15	5	52
	Эксперт 2	10	1	6	5	5	2	3	0	15	5	52
Итоговый балл												

Член Жюри

Член Жюри

  
 Ташобаева Л.А.  
 ФИО  
 Менько К.В.  
 ФИО

\* - количество столбцов с № задания соответствует количеству заданий по данному предмету школьного этапа олимпиад

Шифр участника УСТ.-7-6

**ЗАДАНИЯ ДЛЯ ОБУЧАЮЩИХСЯ**

Время выполнения заданий – 60 минут

Максимальное количество баллов – 100 баллов

**Задание 1.**

Выберите верный ответ. Правильные ответы внесите в таблицу.

1.1. Выберите один верный ответ.

Максимальный балл – 5 (по 0,5 балла за каждый правильный ответ).

1. В каком году Рюрик был призван на княжение:

- а) 860      б) 862      в) 882      г) 980

2. Какое событие относится к XI в.:

- а) Первый письменный договор Руси с Византией      б) съезд в г. Любече  
в) Разорение Киева силами Батыя      г) Принятие Судебника

3. Битва между шведами и русскими в 1240г. получила название:

- а) Невская битва      б) Мамаево побоище      в) стояние на Угре      г) битва на Калке

4. Какое событие произошло в 988г.?

- а) Крещение Руси      б) Языческая реформа  
в) Куликовская битва      г) Битва на р. Воже

5. Какое событие произошло раньше других:

- а) Крещение княгини Ольги      б) Гибель Святослава Игоревича  
в) битва на р. Калке      г) призвание Рюрика

6. Кто является автором первой русской летописи:

- а) Никон      б) Сильвестр      в) Нестор      г) Лаврентий

7. Прозвище Донской, князь Дмитрий Иванович получил за:

- а) проведение переписи населения в Москве      б) создание «Русской Правды»  
в) победу над монголами в Куликовской битве      г) Победу в Ледовом побоище

8. Система содержания должностных лиц, за счёт местного населения - это:

- а) приказы      б) местничество      в) кормление      г) налоги

9. В каком году был подписан Верденский договор о разделе империи Карла Великого:

- а) 476      б) 732      в) 800      г) 843

10. К какому веку относится начало Столетней войны:

- а) XI      б) XII      в) XIII      г) XIV

Шифр участника ИСИ-4-6 **76**

Ответ:

№	1	2	3	4	5	6	7	8	9	10
1.1.	Б	Б	А	А	Г	В	Г	В	В	Г

1.2. Верно ли утверждение?

Максимальный балл – 5 (по 0,5 балла за каждый правильный ответ).

- ~+ 1. В XV в. в Европе появлялись аркебузы - ручное огнестрельное оружие, прообраз современного ружья, прицельно стрелять из которого можно было на расстоянии 30-35 м.
- ~+ 2. Ахмат совершил набег на Москву в 1382 г.
- ~+ 3. После смерти Тимура в течение XV в. Золотая Орда стала распадаться на отдельные ханства.
- ~+ 4. Василий II женился на племяннице последнего византийского императора Софье Палеолог.
- ~- 5. По преданию Куликовская битва началась с поединка ордынского богатыря Челубея и русского воина Пересвета.
- ~+ 6. При Ярославе Мудром был построен Софийский собор в Киеве
- ~- 7. Святослав Игоревич полностью разгромил Волжскую Булгарию.
- + 8. Борис и Глеб, убитые в междоусобной борьбе старшим братом Святополком, впоследствии были причислены к лику святых.
- ~+ 9. Одним из главных событий правления Ивана III стало свержение монгольского ига.
- + 10. Владимир Святославич провел языческую реформу в 980 г.

Ответ:

№	ВЕРНО	НЕВЕРНО
1.2.	1, 4, 6, 8, 10, 2, 3, 9 + + + + +	5, 7, 2, 9 + + +

Задание 2.

Определите и запишите принцип образования каждого логического ряда, найдите и выпишите лишний элемент в каждом ряду. Объясните, почему данный элемент является лишним.

Максимальный балл – 3 (0,5 балла за лишнее понятие, 0,5 балла за объяснение).

Шифр участника ИСТ. - 7 - 6

2.1. Грановитая палата Кремля, Золотые ворота во Владимире, Церковь Покрова на Нерли, Церковь Спаса на Нередице, Церковь Параскевы Пятницы в Новгороде

2.2. Василий II, Иван Калита, Дмитрий Донской, Андрей Боголюбский, Иван III

2.3. Пожилос, Юрьев день, закупы, помещик, владельческие крестьяне

Ответ:

2.1. Церкви и места связанные с религией

Лишнее слово - ~~Золотые ворота Кремля~~

2.2. Русские князья в хронологическом порядке

Лишнее слово - ~~Дмитрий Донской~~

2.3. Юрьев день (крестьяне)

Лишнее слово - ~~Юрьев день помещик~~

Задание 3.

Какое имя правителя зашифровано в ребусе. Назовите его прозвище.

Кто правил до него.

Максимальный балл – 12 (1 балл за каждую правильно указанную позицию-имя, прозвище, предшественник).

1	 4,5 Г	3	 а и БГР И ЕТ Й
2	 ьга	4	 Б.Н

Ответ:

№	Имя правителя	Прозвище	Предшественник
1	ОЛЕГ +	ОКАЗНЫЙ	
2	ОЛЬГА	ХРИСТИАНСКАЯ	ИГОРЬ
3	АЛЕКСАНДР	МЕРСКИЙ +	
4			

Задание 4.

Заполните пропуски в тексте. Ответ оформите в виде перечня элементов под соответствующими номерами.

Максимальный балл – 10 (1 балл за каждый правильный ответ).

«В тот (1- год ) сказала (2 – термин) ..... „ Отроки Свенельда изоделись оружием и одеждой, а мы наги. Пойдем, князь, с нами за (3 – термин), и себе добудешь, и нам“. И послушал их (4 – имя князя) — пошел к (5 – название племени) за ..... и прибавил к прежней ..... новую, и творили насилие над ними мужи его. Взяв ....., пошел он в свой город. Когда же шел он назад, поразмыслив, сказал своей ....., „Идите с .... домой, а я возвращусь и похожу еще“. И отпустил .... свою домой, а сам с малой частью .... вернулся, желая большего богатства. .... же, услышав, что идет снова, держали совет с князем своим (6 – имя князя): „Если повадится волк к овцам, то вынесет все стадо, пока не убьют его; так и этот: если не убьем его, то всех нас погубит“, И послали к нему, говоря: „Зачем идешь опять? Забрал уже всю ....“. И не послушал их .....; и ....., выйдя из города (7-город), убили князя и дружинников его, так как было их мало...(8-имя княжны) же была в (9-город) с сыном своим, ребенком (10-имя ребенка). Сказали же .....: „Вот убили мы князя русского, возьмем жену его .... за князя нашего ..... и сына ее возьмем, и сделаем ему, что захотим“...»

Ответ:

1	Князь	6	Свенельд
2	Княжна Ирина	7	Ярзана
3	Польне (Польноубе)	8	Ольга
4	Игорь	9	Князь
5	Польне	10	Игорь-Святослав

Шифр участника ИСТО-7-6

**Задание 5.**

**Выполните задания.**

Максимальный балл – 10

**5.1. Расположите события в хронологической последовательности**

За полностью правильную последовательность – 7 баллов.

- А. Заключение договора Игоря с Византией
- Б. Изобретение книгопечатания И.Гутенбергом Г А Ж В Д Е Б
- В. Смерть Мстислава Великого
- Г. Возникновение империи Карла Великого
- Д. Строительство Софийского собора в Киеве
- Е. Присоединение Твери к Московскому государству
- Ж. Начало княжения Ярослава Мудрого в Киеве

58

Ответ: Укажите буквы, под которыми обозначены события

1	2	3	4	5	6	7
Г	А	Ж	В	Д	Е	Б

**5.2. Решите исторический пример**

Максимальный балл – 3 балла (1 балл. за правильно указанный год, 2 балла за правильное объяснение события).

(год стояние на р.Угре) – (год Куликовской битвы)+(год призвание Рюрика) = (? год \_\_\_\_\_) - какое событие произошло в этот году?

Ответ: 1139  
 $1240 \text{ г.} - 4282 = \text{г.} + 882 \text{ г.} = 984 \text{ г.}$

Объяснение: Кремль Рюрик

$$\begin{array}{r} 1282 \\ - 1240 \\ \hline 42 \\ + 882 \\ \hline 924 \end{array}$$

**Задание 6.**

**Внимательно рассмотрите карту и выполните предложенные задания.**

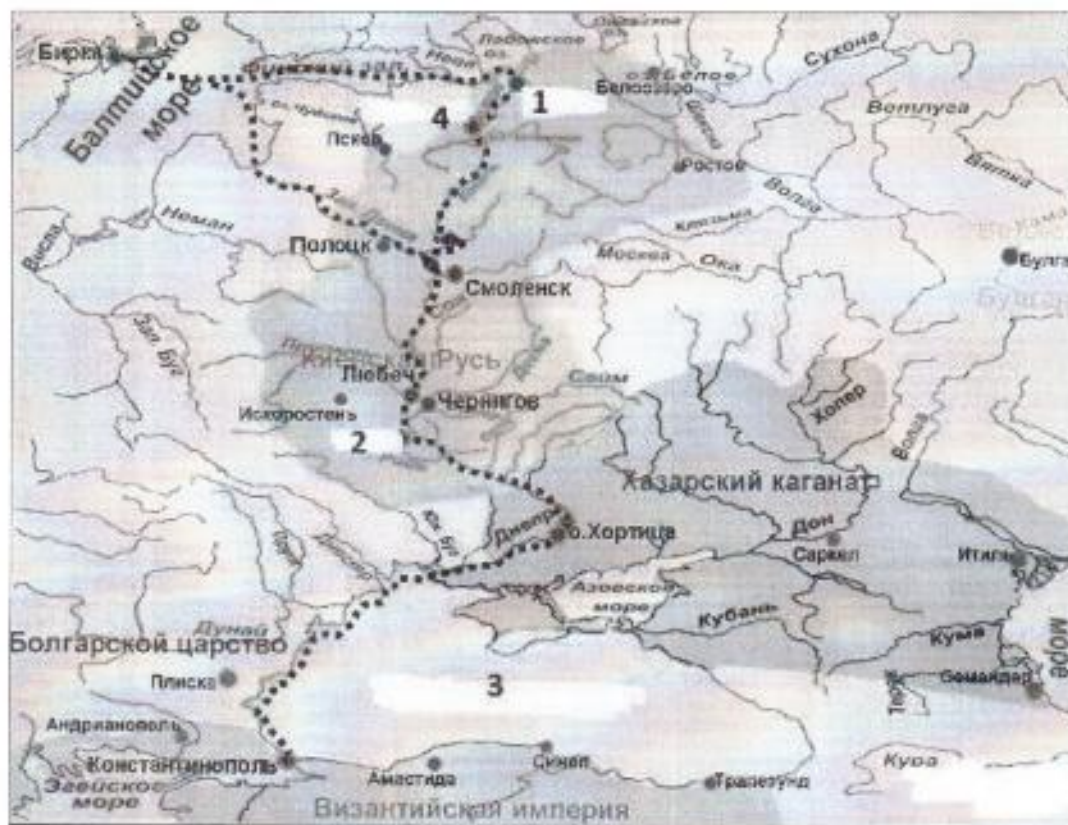
Максимальный балл – 7 (по 1 баллу за каждый правильно названный элемент).

$1240 - x + 882 = 984$

$x = 1240 + 882 - 984$

$$\begin{array}{r} 11 \\ + 1240 \\ + 882 \\ \hline 2122 \\ 330 \\ - 2122 \\ \hline 982 \\ 1734 \end{array}$$

Шифр участника ИСТ.-7-6



6.1. Назовите торговый путь в Древней Руси, обозначенный на карте (1 балл). 20

Ответ: из варяг в греки

6.2. Как назывался водный торговый маршрут, соединявший Балтийское и Каспийское моря, позволявший вести торговлю с арабскими странами? (1 балл).

Ответ: из варяг в греки

6.3. Напишите названия городов, обозначенных цифрам 1, 4, мимо которых проходил этот торговый путь (соблюдайте порядок названий). (2 балла).

Ответ: 1-Колывань 4-Жумский Новгород

6.4. Назовите государство, с которым заключали договоры русские князья. (1 балл). Укажите имя князя, прибывшего щит на ворота столицы загаданного государства. (1 балл).

Ответ: Византия Олег

6.5. Укажите, название моря, указанное цифрой «3». (1 балл).

Ответ: Красное

Шифр участника ИСТ.-7-6

## Задание 7.

Какие события отражены на иллюстрациях. Укажите по одной личности, обозначенной на данных картинках.

*Максимальный балл – 12 (по 2 балла за каждый правильный ответ).*



№ 1



№ 2



№ 3



№ 4



№ 5



№ 6


Ответ:

	№ 1	№ 2
Событие	ВТОРЖЕНИЕ ЧИНГИСХАНА	ПРИЗВАННИЕ РОМУК И ЕГО БРАТЯВ
Личность	ЧИНГИСХАН	РОМУК
	№ 3	№ 4
Событие	КРЕЩЕНИЕ РУСЬ	СОЗДАНИЕ ПЕРВОЙ АЗБУКИ
Личность	ВЛАДИМИР	КИРИЛЛ И МЕФОДИЙ
	№ 5	№ 6
Событие	УБИЙСТВО ОЛЬГИ	СТОЯНИЕ НА КУКЕ
Личность	ОЛЬГА	

Задание 8.

Посмотрите на архитектурные сооружения и укажите: 1) название архитектурных сооружений (1 балл); 2) время их создания (с точностью до половины столетия) (1 балл); 3) имя князя, при котором они были построены (1 балл); 4) место их расположения (1 балл).

Максимальный балл – 16.



Шифр участника ИСТ-7-6

Ответ:

№	Название	Время создания	Имя князя	Место
1				
2				
3				
4	Соринский сбор	I пол. XV в.	Ярослав Мудрый	КИЕВ

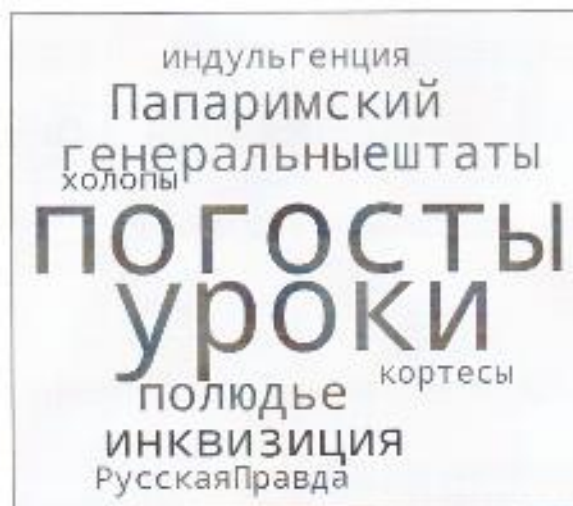
Задание 9.

Выполните задания.

Максимальный балл – 15.

9.1. Расположите понятия, относящиеся к истории России и Всемирной истории в таблицу.

Максимальный балл – 10 (по 0,5 балла за каждый правильный расположенный элемент).



Ответ:

Российская история	Всемирная история
<p>холопы пogocты уроки полудье Русская Правда</p>	<p>индальгенция папа римский генеральные штаты кортесы инквизиция</p>

Шифр участника ИСТ.-4-6

**9.2. Выберите любые 5 терминов из задания 9.1. и дайте им определения.**

Максимальный балл – 5 (1 балл за правильное определение).

58

Ответ:

№	Термин	Определение
1	ИНДУЛЬГЕНЦИЯ	Снижение, отпуская слово или от имени юной вымышленной
2	ПАПА РИМСКИЙ	ГЛАВА и АТОЛИЧЕСКОЙ ЦЕРКВИ
3	ИЖИВИЗМУ	Слово, если изменить в разуме. Чужесные превращения слова с изменением рисуночных ребусов, содержащих предлоги, суЕРЕТИЦИС
4	ГОЛОВАЕ	НАЛОГ с ОБИРАЕМЫМ НА РУСА с БАКИЗЕМ ИЖЕИ
5	ГЕНЕРАЛЬНЫЕ ШТАТЫ	ГЕНЕРАЛЬНЫМ ШТАТ ВО ФРАНЦИИ

**Задание 10.**

**Выполните задания.**

Максимальный балл – 5 (по 0,5 балла за каждый правильный ответ).

**10.1. Какие памятники г. Омска посвящены Великой Отечественной войне? (1,5 балла)**

№1	№2	№3	№4
			

Ответ: 3, 4

16

Шифр участника ИСТ.-7-6

**10.2. Ответьте на вопросы**

Максимальный балл – 2 (по 0,5 балла за каждый правильный ответ).

У какого музея установлена скульптура № 1? (название музея)

Ответ: \_\_\_\_\_

Напишите название приходского храма, находящегося недалеко от скульптуры № 2.

Ответ: ЦЕРКОВЬ ПРЕСВЯТЫХ ЖФБ

В каком парке располагается памятник №3?

Ответ: В ПАРКЕ ПОБЕДЫ

Название остановки общественного транспорта, рядом с которой расположен комплекс №4?

Ответ: СТ. МУХОМОВА

**10.3. Соотнесите факт и номер изображенного памятника**

Ответ:

Факт	№ памятника
Данный памятник был открыт в 1985 году, высотой 22 метра (0,5 балла)	РОДИНА-МАТЬ ЗОРЕТ
Авторами скульпторы стали С. А. Голованцев и архитектор М. М. Хахаев (0,5 балла)	РОДИНА-МАТЬ ЗОРЕТ
Комплексы этой скульптуры были отлиты в Мытищах Московской области (0,5 балла)	РОДИНА-МАТЬ ЗОРЕТ