

Приложение № 11

ПРОТОКОЛ
 проверки олимпиадной работы участника

Предмет История
 Класс 5
 Шифр Ист 5-8
 № тура (если есть) 1

Заполняется проверяющими членами жюри

№ задания		1	2	3	4	5	6	7	8	9	10	И Т О Г О
Максимальное количество баллов		10	14	8	8	10	10	10	12	9	9	100
Баллы членов жюри	Эксперт 1	10	8	0	8	5	7	8	6	6	9	59
	Эксперт 2	10	2	0	2	5	7	2	6	6	9	59
Итоговый балл												

Член Жюри


 Каламбекова А.Т.
 ФИО

Член Жюри


 Митяко К.В.
 ФИО

*- количество столбцов с № задания соответствует количеству заданий по данному предмету школьного этапа олимпиад

Шифр участника ИСР - 5-8

ЗАДАНИЯ ДЛЯ ОБУЧАЮЩИХСЯ

Время выполнения заданий – 45 минут

Максимальное количество баллов – 100 баллов

Задание 1.

Соотнесите личность и открытие. Запишите буквы в таблицу, под которой они указаны.

Максимальный балл за задание – 10.

	Личность	Открытие
1	Геродот	А) Сформулировал теорию эволюции путём естественного отбора
2	Чарлз Дарвин	Б) Обнаружил рисунки древнего художника в пещере Альтамира
3	Саутуола	В) На острове Ява обнаружил останки питекантропа
4	Луис Лики	Г) Обнаружил в Олдувайском ущелье останки «хомо хабилиса»
5	Эжен Дюбуа	Д) объехал почти все страны своего времени и описал обычаи и традиции многих народов

Ответ:

1	2	3	4	5
г	а	б	з	в

Задание 2.

По какому принципу образованы ряды?

Максимальный балл за задание – 14.

1. Австралопитек, питекантроп, неандерталец

Ответ: периода истории эволюции

2. Костёнки, Сунгирь, Капова пещера

Ответ: древнее искусство

3. Шерстистый носорог, мамонт, пещерный медведь

Ответ: животные в древности

4. Земледелие, скотоводство, ремесло

Ответ: Эволюция

5. Духи, идолы, молитвы

Ответ: Религия

Шифр участника Ист-5-8

Ответ:

1	2	3	4	5	6	7	8
е	в	б	а	з	ж	л	г

1 1 1 1 1 1 1 1

85

Задание 5.

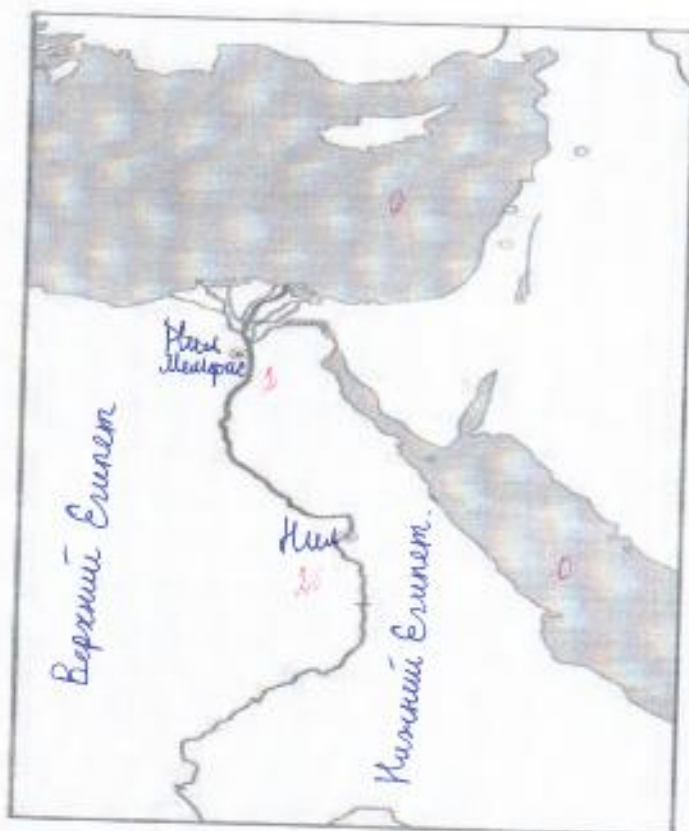
Работа с картой.

Максимальный балл за задание - 10.

На контурной карте Египта:

1. Напишите названия морей, омывающих Египет.
2. Напишите название главной реки Египта.
3. Обозначьте на карте 1-ый порог.
4. Укажите на карте пунсоном и напишите название столицы единого Египетского государства.
5. Отметьте территории верхнего и нижнего Египта.

Ответ:



45

Шифр участника цет.-5-8

Задание 6.

Разгадайте кроссворд.

Максимальный балл за задание — 10.



По вертикали:

1. Скульптурное изображение человека из камня, глины, дерева.
2. Учреждения, где хранятся памятники истории и культуры.
3. Имя египетской царицы.
4. Огромная каменная гробница фараона.
5. Бог, которого изображали с телом человека и чёрной головой шакала.
6. Фараон, захороненный в самой высокой пирамиде.
7. Всесильный владыка Египта.
8. Специально подготовленное для существования в «Царстве мертвых» тело человека.
9. Высокий столб, обычно служащий опорой здания.
10. Фантастическое существо с телом льва и головой человека.

Задание 7.

Прочитайте текст и вставьте пропущенные слова.

Максимальный балл за задание — 10 баллов.

Шифр участника Ист-5-8

1) Сначала в долине реки А) Нил ¹⁵ существовало много мелких государств, которые со временем образовали два крупных: Б) Верхний ¹⁵ Египет и В) Нижний ¹⁵ Египет. Примерно в Г) 3000 ¹⁵ году до н.э. они объединились в одно государство во главе которого стоял Д) фараон ¹⁵.

Слова: Нижний, фараон, Нил, 3000, Верхний.

2) Египет располагается на северо-востоке А) Африки ¹⁵ : от Б) Красного ¹⁵ моря на севере до первого порога на реке В) Нил ¹⁵ на юге, от Г) Средиземного ¹⁵ моря на востоке до Д) Ливийской ¹⁵ пустыни на западе.

Слова: Красного, Африки, Ливийской, Средиземного, Нил.

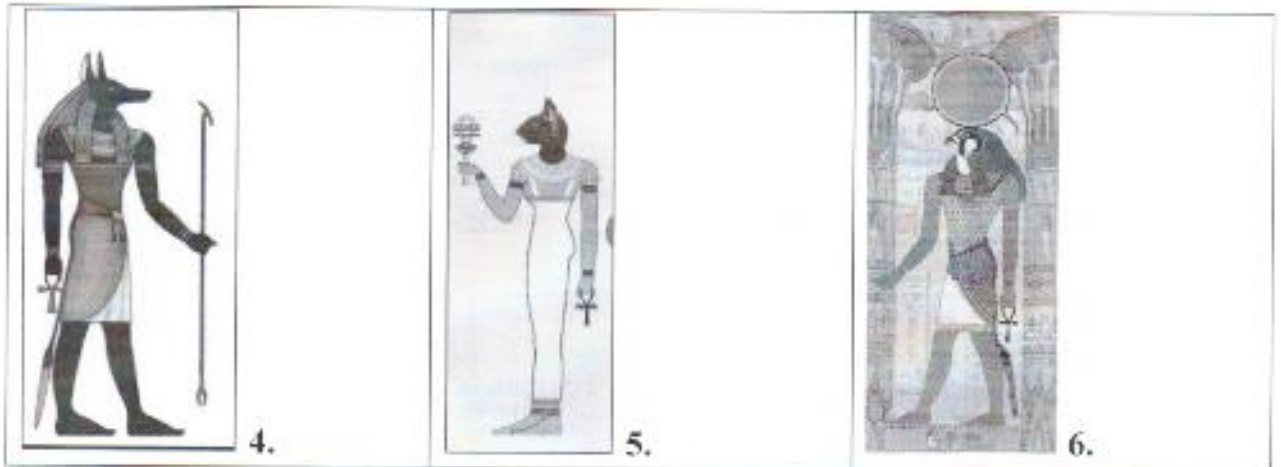
Задание 8.

Подпишите названия богов под картинками, и каким силам природы они соответствовали, кому покровительствовали.

Максимальный бал за задание – 12.



Шифр участника Ист.-5-8



Ответ:

№	Имя бога	Чему покровительствует
1	тот	мудрости
2	Ва	солнце
3	Собек	Книгу и воде.
4	Осирис	загробное царство
5	Бастет	красота
6	Анубис	проводник умерших

Задание 9.

Распределите иллюстрации по видам исторических источников.
Заполните в таблицу цифры, под которыми указаны источники.

Максимальный бал за задание – 9.

Шифр участника История - 5 - В.



Шифр участника УОм.-5-8

Ответ:







Вещественные источники	Письменные источники	Устные источники
6, 2, 3, 6. 1 0 1 1	4, 5, 7, 8. 1 1	9. 1

60


Задание 10.

На фотографиях изображены памятники архитектуры и скульптуры города Омска. Определите их название.

Максимальный балл за задание - 9.

<p>А)</p> 	<p>Б)</p> 	<p>В)</p> 
<p>Г)</p> 	<p>Д)</p> 	<p>Е)</p> 

Шифр участника Исп - 5 - 8



Ответ:

- А. _____
- Б. _____
- В. Любучка 1
- Г. _____
- Д. _____
- Е. _____
- Ж. _____
- З. Марские ворота 0
- И. _____

595