

Приложение № 11

ПРОТОКОЛ
 проверки олимпиадной работы участника

Предмет История
 Класс 5
 Шифр Ист 5-2
 № тура (если есть) 1


Заполняется проверяющими членами жюри

№ заданий		1	2	3	4	5	6	7	8	9	10	И Т О Г О
Максимальное количество баллов		10	14	8	8	10	10	10	12	9	9	100
Баллы членов жюри	Эксперт 1	2	10	0	8	2	6	10	6	9	0	53
	Эксперт 2	2	10	0	8	8	6	10	6	9	0	53
Итоговый балл												

Член Жюри


 Клямбекова А.Т.

Член Жюри


 Менько К.В.

*- количество столбцов с № задания соответствует количеству заданий по данному предмету школьного этапа олимпиад

Шифр участника 5-2

ЗАДАНИЯ ДЛЯ ОБУЧАЮЩИХСЯ

Время выполнения заданий – 45 минут

Максимальное количество баллов – 100 баллов

Задание 1.

Соотнесите личность и открытие. Запишите буквы в таблицу, под которой они указаны.

Максимальный балл за задание – 10.

	Личность	Открытие
1	Геродот	А) Сформулировал теорию эволюции путём естественного отбора
2	Чарлз Дарвин	Б) Обнаружил рисунки древнего художника в пещере Альтамира
3	Саутуола	В) На острове Ява обнаружил останки питекантропа
4	Луис Лики	Г) Обнаружил в Олдувайском ущелье останки «хомо хабилиса»
5	Эжен Дюбуа	Д) объехал почти все страны своего времени и описал обычаи и традиции многих народов

Ответ:

1	2	3	4	5
Д	Г	А	В	Б

2 0 0 0 0

20

Задание 2.

По какому принципу образованы ряды?

Максимальный балл за задание – 14.

1. Австралопитек, питекантрон, неандерталец

Ответ: развитие человека 0

2. Костёнки, Сунгирь, Капова пещера

Ответ: 0

3. Шерстистый носорог, мамонт, пещерный медведь

Ответ: древние млекопитающие 2

4. Земледелие, скотоводство, ремесло

Ответ: древние занятия 2

5. Духи, идолы, молитвы

Ответ: религия 2

Шифр участника 5-2

6. Анубис, Осирис, Гор

Ответ: боги египтян 2

7. Дубина, каменное рубило, палка-копалка

Ответ: инструменты 2

Задание 3. 10 ф

На данной ленте времени каждый отрезок между делениями соответствует одному веку.

Максимальный балл за задание – 8.

1. Отметьте на ленте времени черточками и подпишите следующие годы: 330 г. до н. э., 50 г. до н. э., 190 г. н. э., 1547 г., 1703 г., 1945 г.

Ответ:



2. Город Омск был основан в 1716 году. Отметьте на «линии времени» этот год. Подсчитайте, сколько лет исполнилось Омску в 2025 году. Вычисления делайте письменно.

Ответ:



Задание 4.

Установи соответствие между понятиями и их определениями.

Максимальный балл за задание – 8.

Понятие	Определение
1 Иероглифы	А «Островок в пустыне, покрытый растительностью»
2 Мифы	Б Водоподъемный механизм для подачи воды
3 Шадуф	В Повествования о богах, духах, обожествленных героях
4 Оазис	Г Обозначение царя Древнего Египта
5 Эволюция	Д Первый период каменного века, время существования древнейших людей
6 Религия	Е Рисунчатые знаки египетской письменности
7 Фараон	Ж Вера в богов, духов, в сверхъестественное и поклонение им
8 Палеолит	З Постепенные изменения в природе или обществе

Шифр участника 5-1

Ответ:

1	2	3	4	5	6	7	8
Е	В	Б	А	З	Ж	Г	Д

↑ ↑ ↑ ↑ ↑ ↑ ↑ ↑

80

Задание 5.

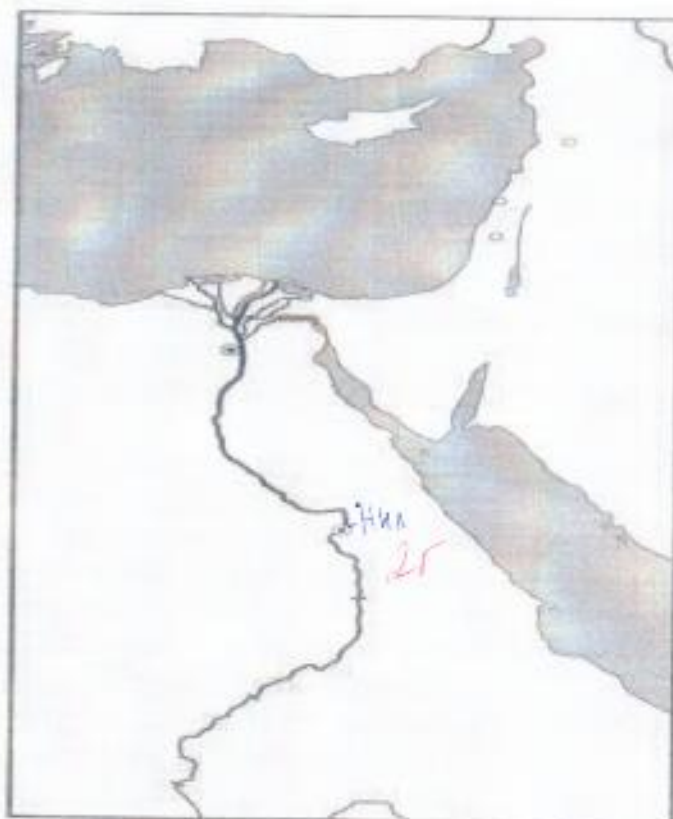
Работа с картой.

Максимальный балл за задание - 10.

На контурной карте Египта:

1. Напишите названия морей, омывающих Египет.
2. Напишите название главной реки Египта.
3. Обозначьте на карте 1-ый порог.
4. Укажите на карте пунсоном и напишите название столицы единого Египетского государства.
5. Отметьте территории верхнего и нижнего Египта.

Ответ:



25

Шифр участника 5-3
Задание 6.
Разгадайте кроссворд.

Максимальный балл за задание — 10.



60

По вертикали:

1. Скульптурное изображение человека из камня, глины, дерева.
2. Учреждения, где хранятся памятники истории и культуры.
3. Имя египетской царицы.
4. Огромная каменная гробница фараона.
5. Бог, которого изображали с телом человека и чёрной головой шакала.
6. Фараон, захороненный в самой высокой пирамиде.
7. Всесильный владыка Египта.
8. Специально подготовленное для существования в «Царстве мертвых» тело человека.
9. Высокий столб, обычно служащий опорой здания.
10. Фантастическое существо с телом льва и головой человека.

Задание 7.
Прочитайте текст и вставьте пропущенные слова.

Максимальный балл за задание – 10 баллов.

Шифр участника 5-2

1) Сначала в долине реки А) НИЛ существовало много мелких государств, которые со временем образовали два крупных: Б) НИЖНИЙ Египет и В) ВЕРХНИЙ Египет. Примерно в Г) 3000 году до н.э. они объединились в одно государство во главе которого стоял Д) ФАРАОН.

Слова: Нижний, фараон, Нил, 3000, Верхний.

2) Египет располагается на северо-востоке А) АФРИКИ : от Б) СРЕДИЗЕМНОГО моря на севере до первого порога на реке В) НИЛ на юге, от Г) КРАСНОГО моря на востоке до Д) ЛИВИЙСКОЙ пустыни на западе.

Слова: Красного, Африки, Ливийской, Средиземного, Нил.

100

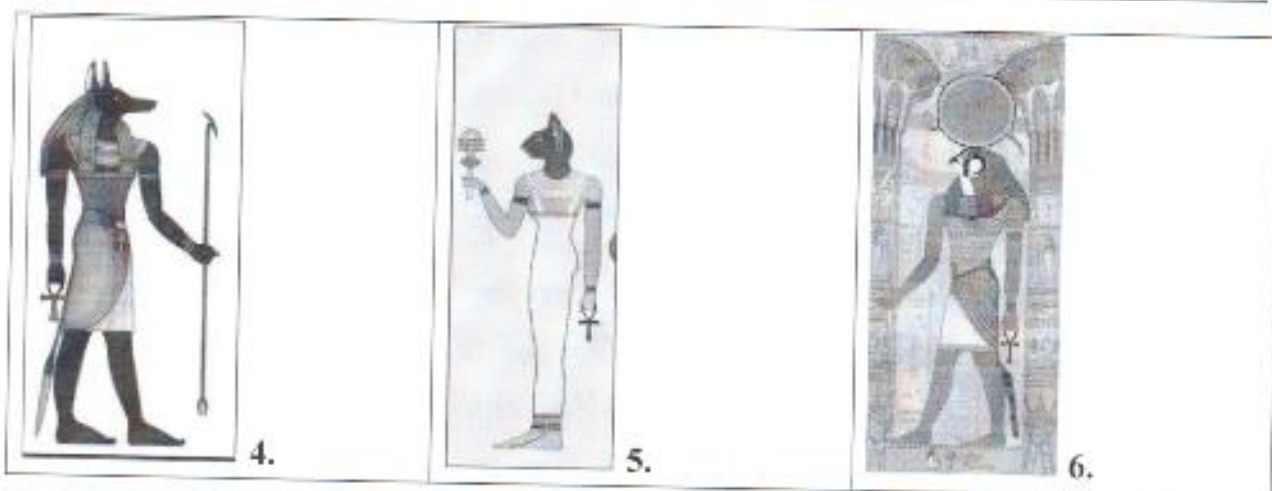
Задание 8.

Подпишите названия богов под картинками, и каким силам природы они соответствовали, кому покровительствовали.

Максимальный бал за задание – 12.



Шифр участника 5-2



Ответ:

№	Имя бога	Чему покровительствует	
1	ТУТАНХАМОН	ЗНАНИЯ	20
2	РА	СОЛНЦЕ	20
3			
4	АНУБИ	ПОДЗЕМНЫЙ МИР	20
5			
6			



60

Задание 9.

Распределите иллюстрации по видам исторических источников. Заполните в таблицу цифры, под которыми указаны источники.

Максимальный бал за задание – 9.

Шифр участника 5-2



Шифр участника 5-2

Ответ:







Вещественные источники	Письменные источники	Устные источники
2, 3, 6 1 1 1	2, 4, 7 1 1 1	2, 5, 8, 9 1 1 1

90


Задание 10.

На фотографиях изображены памятники архитектуры и скульптуры города Омска. Определите их название.

Максимальный балл за задание - 9.

<p>А)</p> 	<p>Б)</p> 	<p>В)</p> 
<p>Г)</p> 	<p>Д)</p> 	<p>Е)</p> 

Шифр участника 5-2



Ответ:

- А. _____
- Б. _____
- В. _____
- Г. _____
- Д. _____
- Е. _____
- Ж. _____
- З. _____
- И. _____

535